

金本ましゅう

やまとすごろく



やまとごころ



やまごころ
ながいさは?
正かいたがら
ますごころ

ボイラーにせけんを
いれるはますごころ

かてかてにみつ
かるかいたがら

かいたがら


スゴイ

やまごころ

やまごころ
はまごころ

やまごころ
はまごころ

<h1>Start</h1>				<p>大和の全長は何m? (正解なら2マス進む) 1. 102m 2. 213m 3. 263m</p>
<p>今大和は沈んでいます 水深約何mでしょう? (正解なら3マス進む) 1. 100m 2. 350m 3. 600m</p>	<p>大和が撃つ弾の 幅は何cm? (正解なら3マス進む) 1. 30cm 2. 46cm 3. 58cm</p>			<p>大和の「主砲」は いくつ乗っていた? (正解なら矢印の先へ) 1. 1つ 2. 3つ 3. 9つ</p>
<p>呉の地形の特徴は 次のうちどれでしょう? (正解なら1マス進む) 1. 島と山に囲まれている 2. 大和に囲まれている 3. 山だらけ</p>				
	<p>呉が「ものづくりの町」 とされている理由は? (正解なら1マス進む) 1. りんごの生産が多いから 2. こけしの生産が多いから 3. 大和をつくったから</p>		<p>ゼロ単が飛んだ! 2マス 進む</p>	
<p>絶対止まる! 「大和ミュージアム」が伝え たいことは? (間違えれば8マス戻る) 1. 歴史を未来へ! 2. 外国の船にも興味を! 3. おかしを作れ!</p>				<p>展示物に さわっちゃった... (絶対ダメだよ!!) 6マス戻る</p>
		<p>呉の港では何が 造られているでしょう。 (正解なら2マス進む) 1. 米 2. タンカー 3. 車</p>		
<h1>Goal</h1>				<p>主砲で 飛ばされる 3マス進む</p>




Start

てきのどうげきを
まもるとうくは
50年たっている
のいきりぎたない
どっちだ
正かいたら3こ
すすむ

やまごでわ
んでたものって
なんだ
①リンビール
②水
正かいたら
4こすすむ

やまどのい
くだんは何
キロメートルと
①42キロメートル
②38キロメートル
正かいたら2こ
すすむ



ふねをうごかす
どっちがはなれた
①ボイラー
②はしき
正かいたら2こ
すすむ

はたは何円
で買ったの
はたの14万
①100万
正かいたら3こ
すすむ

かいづくカー
一回休み



かこうきの名
前は何だ
①ゼロせん
②とんごせん
正かいたら3こ
すすむ

はくたんはど
までとぶ
①山口
②海のもつ
正かいたら1
こすすむ

Goal

たいほうどん
6こすすむ

Start

ヤマトのかん
そく冊のひ
きは何か
てかいてある
マス

かんそく冊
のひごき
が飛ん
4マス進む



せんかんヤ
マトの球は
何
kgと掛か
るか?
4マス

大和に
ついてい
るさく
の各冊は
6マス進む


かんそく
冊のひご
きが海に
落ちても
1マス
もどる

てんじし
て他の名
前をう
かす
2マス

1000

?

せんかん
ヤマトの
球は何か
7マス



1000

21
マスもどる



松浦
秀直

ヤマトの
球をう
かす
5マス

2マス
もどる

Goal

金本リゆう

				<p>Q2大和の中で 食んだビール は何ビール 1.キリンビール 2.アサヒビール 3.サッポロビール</p>
		<p>大和を作ると 1回休み。</p>		<p>肉じゃがを食べる。 2マス進む。</p>
<p>Q1大和ミュージアム にある大和は実物 の何分の何ア イロ。 1. $\frac{1}{10}$ 3. $\frac{1}{1000}$ 2. $\frac{1}{100}$</p>		<p>大和を作る。 2マス進む。</p>		
				<p>敵に見つかった!! スタートにもどる</p>
<p>大和の技術 が素晴らしい!! ゴールへGo!</p>		<p>大和がし ずむ。 1回休み</p>		
				<p>沖縄へ行く。 4マス進む。</p>
<p>戦争が終 る。 1マス進む</p>		<p>戦争が終 る。 6マスもどる。</p>		

正解し
たら2マス
進む!!

正解したら
1マス進む

大和の敵 a1.10 Q2. キリンビール 金本リゆう

Start

ボイラーに入れる
物は？

- ① ねん土 ② スポンジ
- ③ 石 ④ だんご
- ⑤ ちまき ⑥ ちまき







ぎせい ^しが ^か出
た ^もど ^る

大和は何m

① 263m ② 100m

③ 90m

④ ^だん ^ご ^し ^ち ^ま ^き



とっ ^ろ ^う ^き ^か ^い ^で
きた ^つ ^さ ^ん ^で
い ^っ ^た
4 ^つ ^も ^ど ^る

せん ^ぞ ^う ^が
終 ^わ ^っ ^た
6 ^つ ^す ^む



Goal

3320 ^人 ^た ^く ^な ^る
1 ^つ ^も ^ど ^る

Start

④
どれくらい大きか
玉がえらった?
① 3cm
② 5cm
あったら4つ

①
どれくらい大きか
玉がえらった?
① 3cm
② 5cm
あったら2つ



③
なにをもんていた?
① 2cm
② 3cm
あったら1つ



②
きみがえら 2つ

⑤
玉の大きさは?
① 4cm
② 5cm
あったら3つ

⑤
きみがえら 3つ

⑥
どれくらい大きか
玉がえらった?
① 3cm
② 4cm
あったら5つ

⑥
きみがえら 4つ

本島 里紗

⑦
どれくらい大きか
玉がえらった?
① 3cm
② 4cm
あったら2つ

⑧
きみがえら 3つ

⑨
どれくらい大きか
玉がえらった?
① 2cm
② 3cm
あったら1つ

⑨
きみがえら スタートに2つ



⑩
どれくらい大きか
玉がえらった?
① 4cm
② 5cm
あったら4つ



Goal

⑪
どれくらい大きか
玉がえらった?
① 3cm
② 4cm
あったら3つ

⑪
きみがえら 10つ